


Calcul et géométrie CM1

Tu vas construire différents agrandissements et réductions de ce rectangle, mais il faut qu'il ait toujours les mêmes proportions.



Complète d'abord le tableau.

| | Rectangle A | Rectangle B | Rectangle C | Rectangle D | Rectangle E | Rectangle F |
|----------|-------------|-------------|-------------|-------------|-------------|-------------|
| Longueur | | 8 | 2 | 12 | ... | 1 |
| largeur | | ... | ... | ... | 3 | ... |


Construis les rectangles sur ton cahier.

Si tu as fini, calcule leur aire.

Si tu as fini, calcule leur périmètre.

Calcul et géométrie CM1

Tu vas construire différents agrandissements et réductions de ce rectangle, mais il faut qu'il ait toujours les mêmes proportions.



Complète d'abord le tableau.

| | Rectangle A | Rectangle B | Rectangle C | Rectangle D | Rectangle E | Rectangle F |
|----------|-------------|-------------|-------------|-------------|-------------|-------------|
| Longueur | | 8 | 2 | 12 | ... | 1 |
| largeur | | ... | ... | ... | 3 | ... |


Construis les rectangles sur ton cahier.

Si tu as fini, calcule leur aire.

Si tu as fini, calcule leur périmètre.

Calcul et géométrie CM1

Tu vas construire différents agrandissements et réductions de ce rectangle, mais il faut qu'il ait toujours les mêmes proportions.



Complète d'abord le tableau.

| | Rectangle A | Rectangle B | Rectangle C | Rectangle D | Rectangle E | Rectangle F |
|----------|-------------|-------------|-------------|-------------|-------------|-------------|
| Longueur | | 8 | 2 | 12 | ... | 1 |
| largeur | | ... | ... | ... | 3 | ... |

Construis les rectangles sur ton cahier.

Si tu as fini, calcule leur aire.

Si tu as fini, calcule leur périmètre.