


géométrie CM2

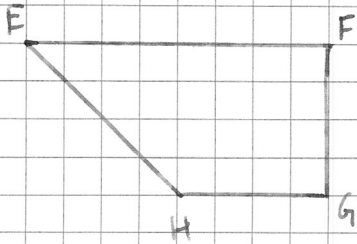
Agrandis ces figures en respectant les proportions.

**INDICES**

pour ABCD:  
«4 devient 8.»



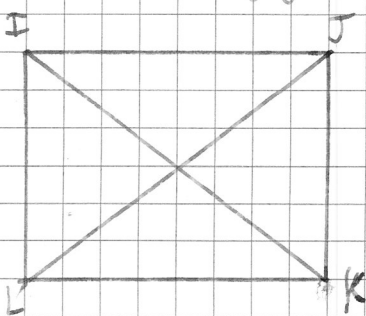
$\times 2$



$\times 1.5$

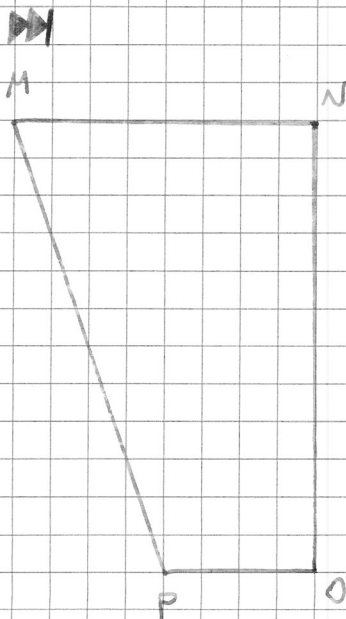
pour EFGH:  
«4 devient 6.»

Réduis ces figures en respectant les proportions.



$\times 0.5$

pour IJKL:  
«4 devient 2.»



$\times 0.33$

pour MNOP:  
«4 devient 3.»