


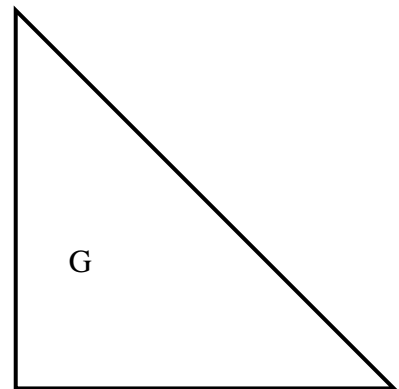
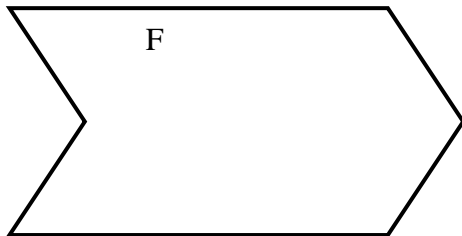

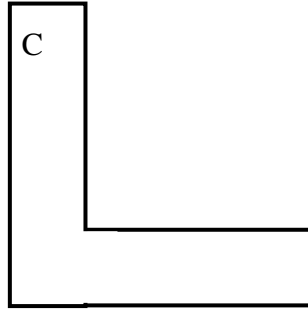

1. À ton avis, combien de carreaux comme celui-ci  faut-il pour remplir chacune des figures ci-dessous ? (à peu près)

Figure	A	B	C	D	E	F	G
Estimation de l'aire (surface)							



Unité d'aire (1 carreau)



2. Mesure maintenant l'aire (la surface) précise de ces figures en carreaux. Pour cela, découpe le nombre de carreaux nécessaires sur le quadrillage que t'as donné le maître et place ton découpage pour remplir chaque figure. (Tu peux coller si tu es sûr(e) de toi)

Figure	A	B	C	D	E	»»F	»»G
Aire (surface) (en carreaux)							

3. Compare tes estimations et l'aire précise.