









Nombres CM1

1. Complète le tableau comme l'exemple.

représentation	fraction	n. + fract°	n. à virgule
exemple : 	$\frac{31}{10}$	$3 + \frac{1}{10}$	3,1
			
			
			
			
			
			1,6
▶▶ 			

2. Réponds aux questions ; les réponses sont des nombres du tableau, dans cette colonne.

- Quel est le nombre le plus petit ?
- Quel est le nombre le plus grand ?
- Quel nombre est situé exactement entre 8 et 9 ?
- Quel est le seul nombre plus petit que 1 ?
- Quel est le seul nombre entier ?
- ▶▶ Quel nombre est le double de 2,4 ?

3. Vérifie que le segment exemple est bien tracé et trace les suivants. (1 mm, c'est un dixième de cm).

Exemple : [AB] de longueur 8,3 cm.



[CD] de longueur 4,7 cm.

[EF] de longueur 10,2 cm.

[GH] de longueur 0,8 cm.

▶▶ [IJ] de longueur 1,5 dm.