

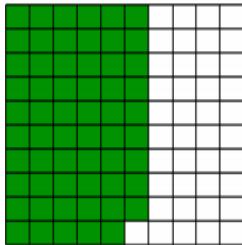
Calcul CE2 - Compléments à 100

Pour chaque calcul, je veux 100 carreaux. Combien m'en manque-t-il ?

Colorie ce que tu as en vert, puis ce qui te manque en rouge.


Exemple :

A- J'ai 59. J'en colorie 41 en rouge.




$$59 + 41 = 100$$

E- J'ai 11.




$$11 + \dots = 100$$

B- J'ai 38.




$$38 + \dots = 100$$

F- J'ai 46.




$$46 + \dots = 100$$

C- J'ai 75.




$$75 + \dots = 100$$

G- J'ai 24.




$$24 + \dots = 100$$

D- J'ai 57.



$$57 + \dots = 100$$

H- J'ai 83.



$$83 + \dots = 100$$

Comment pourrais-tu calculer ce qui manque jusqu'à 100, mais sans colorier ?