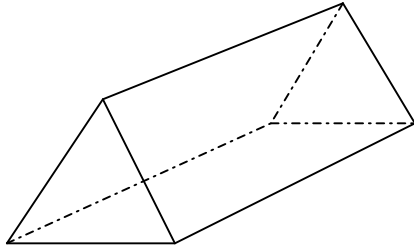


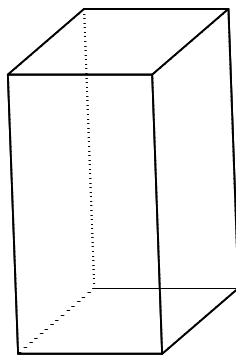
Les solides



Le ..... a 2 faces

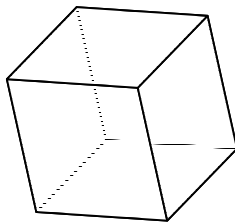
..... et .....

Les autres faces sont des .....



Le .....

Toutes ses faces sont des .....



Le .....

Toutes ses faces sont des .....