



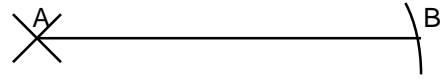

Prénom :

Mesures CM1

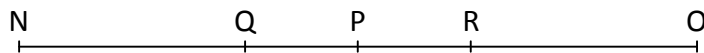
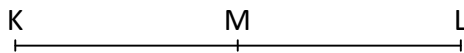
Tu vas reproduire chaque segment, mais sans mesurer à la règle !

Pour cela, tu vas utiliser le compas :

1. Place un point.
2. Prends l'écartement de compas égal à la longueur du segment à reproduire.
3. Trace un arc de cercle en partant de ton premier point.
4. Trace le segment, du point à l'arc de cercle.



Essaie maintenant de reproduire les figures suivantes, uniquement avec le compas (et la règle **seulement pour tracer**, pas pour mesurer !)



Peux-tu reproduire exactement cette figure ? Explique ta réponse.



.....

.....

.....