

Prénom : .....

Mathématiques

Date : .....

Indique (écris) sous ces images si l'objet qui y est représenté est un cube ou un pavé droit (parallélépipède rectangle).

Attention ! **Toutes** les faces d'un cube sont des .....



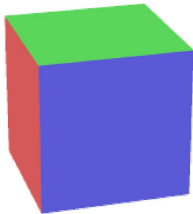
\_\_\_\_\_




\_\_\_\_\_



\_\_\_\_\_



\_\_\_\_\_



\_\_\_\_\_



\_\_\_\_\_



\_\_\_\_\_



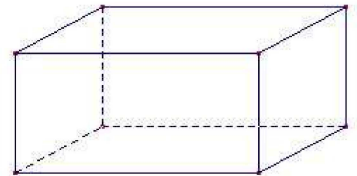
\_\_\_\_\_



\_\_\_\_\_



\_\_\_\_\_



\_\_\_\_\_

Trouve le nom de 3 objets dans la classe qui sont des pavés droits (parallélépipèdes rectangles).

.....

.....

.....