

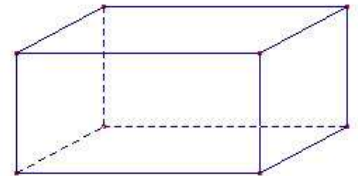
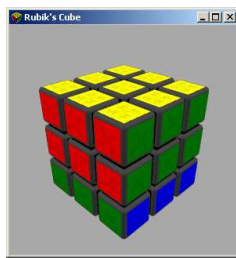
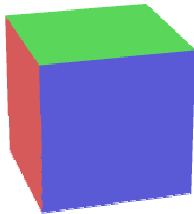
Prénom :

Mathématiques

Date :

Indique (écris) sous ces images si l'objet qui y est représenté est un cube ou un pavé droit (parallélépipède rectangle).

Attention ! **Toutes** les faces d'un cube sont des



Trouve le nom de 3 objets dans la classe qui sont des pavés droits (parallélépipèdes rectangles).