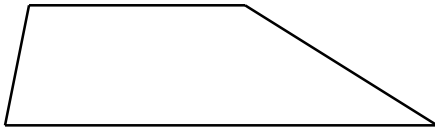


Prénom et NOM :

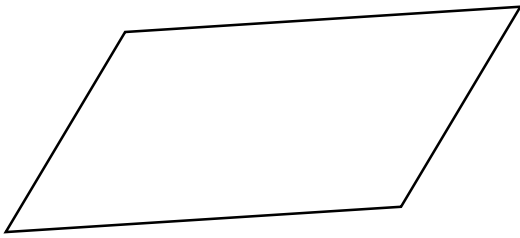
.....

Trace les diagonales de ces quadrilatères et trouve leurs propriétés (en mesurant les côtés, les angles...)



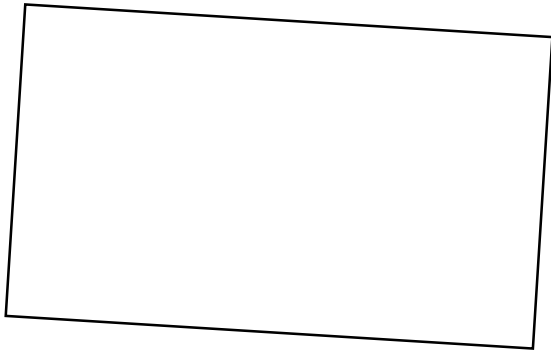
Les diagonales du .....

.....  
.....



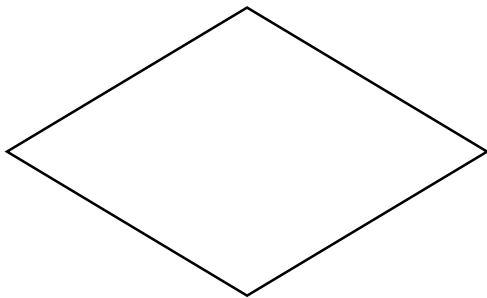
Les diagonales du .....

.....  
.....  
.....




Les diagonales du .....

.....  
.....  
.....  
.....



Les diagonales du .....

.....  
.....  
.....  
.....



Les diagonales du .....

.....  
.....  
.....  
.....