

Prénom :

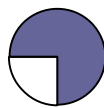
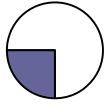
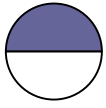
Pourcentages

1. Associe la partie colorée de chaque diagramme aux pourcentages suivants :

75 %

50 %

25 %



2. Le diagramme ci-dessous représente les résultats des élections municipales d'un village. Quel pourcentage de voix M. Boffi a-t-il obtenu ?



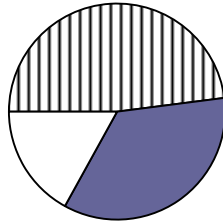
M. Dupert : 48 %



Mme Erzel : 35 %



M. Boffi : ?



Calculs/réponse :

.....

.....

.....

.....

3. Ce cyclomoteur est proposé :

-avec une réduction de 50 € au magasin Cycles 2000 ;

-avec une réduction de 10 % au garage Napio.

Où acheter ce cyclomoteur ?



.....

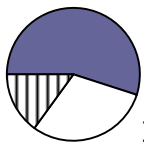
.....

.....

.....

4. Le médecin d'une équipe de basket-ball a recommandé aux joueuses une alimentation journalière équilibrée : 55 % de glucides, 30 % de lipides et 15 % de protéines.

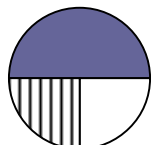
a. Quel diagramme correspond le mieux à cet énoncé ? **Explique.**



1



2



3

légende :



protéines



glucides



lipides

.....

.....

.....

Donne le pourcentage approximatif des protéines dans les deux autres diagrammes.

.....