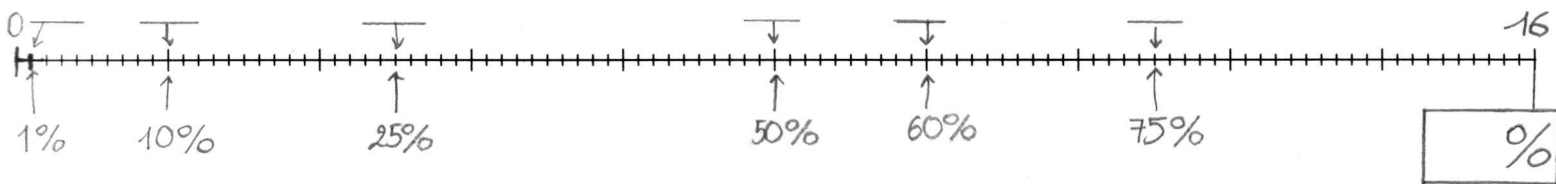
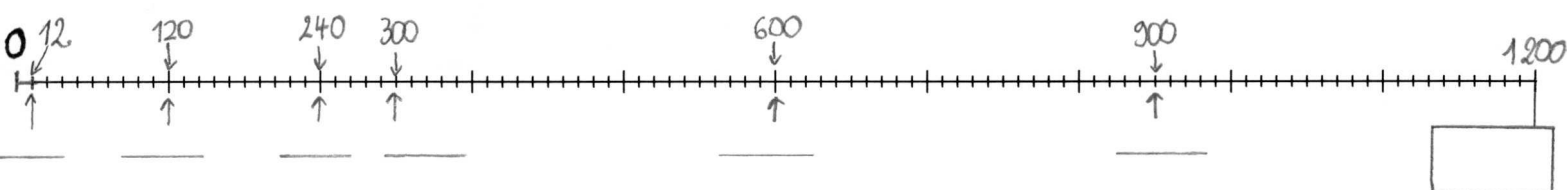


## Pourcentages

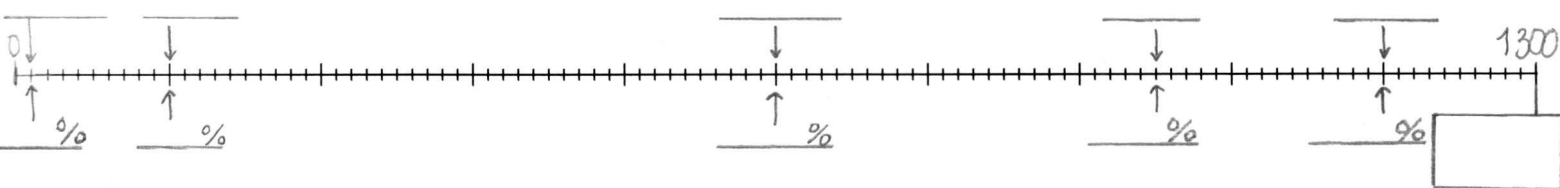
Pour chaque droite, repérons le nombre total en haut, et indiquons le pourcentage total en bas.  
Puis indiquons soit le nombre manquant, soit le pourcentage manquant.



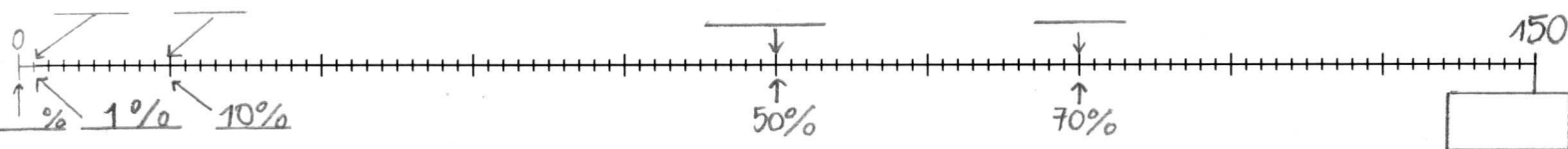
5% sont offerts sur ce beau livre à 16 €. Quel est le montant de la réduction ?.....



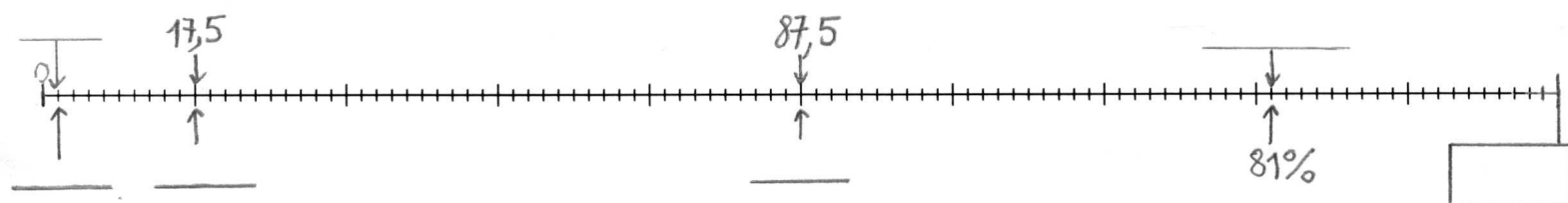
André met de côté 2% de son salaire de 1 200 € par mois. Quelle somme met-il de côté ?.....



André a été augmenté et gagne désormais 1 300 € par mois. Quelle somme met-il de côté ?.....



Au marché, Albert a vendu 108 kg de ses 150 kg de tomates. Quelle pourcentage de son stock a-t-il vendu ?



Il y a 10 ans, 12% des 175 actifs de ce village n'avaient pas de travail. Aujourd'hui, sur les 200 actifs, 20 personnes n'ont pas de travail.

	<u>Nombres de personnes sans emploi</u>	<u>Pourcentages des actifs sans emploi</u>
<u>Il y a 10 ans</u>		
<u>Aujourd'hui</u>		