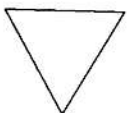
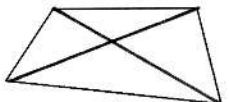
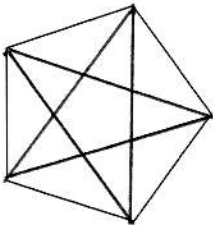
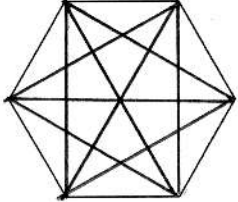
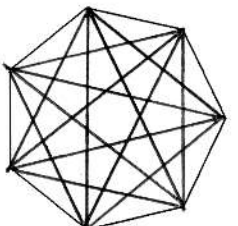
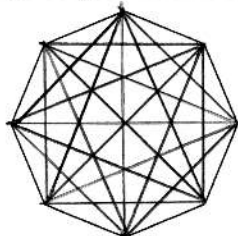
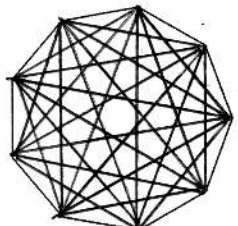
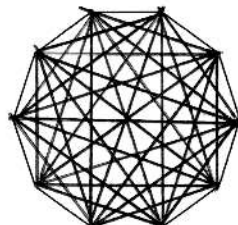


Trace les diagonales de chaque polygone. Complète le tableau. (Pour les noms des polygones, tu as les deux premières lettres qui t'aideront à trouver le mot dans ta tête ou dans le dictionnaire. Si ce n'est pas dans le dictionnaire, tape 'polygone' sur www.wikipedi.org)

nom du polygone	polygone	nombre de sommets	nombre de diagonales
un <i>triangle</i> ... équilatéral		3	0
un <i>quadrilatère</i> ... quelconque		4	2
un <i>pentagone</i> ... régulier		5	5
un <i>hexagone</i> ... régulier		6	9
un <i>heptagone</i> ... régulier		7	14
un <i>octogone</i> ... régulier		8	20
un <i>enneagone</i> ... régulier		9	27
un <i>décagone</i> ... régulier		10	35