


Pour chaque polygone, écris le nom des côtés et des sommets. Tu peux écrire le nom du polygone si tu le connais.

un

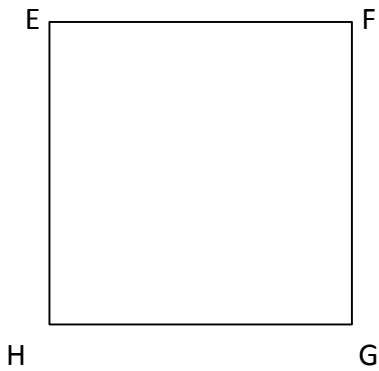


Les côtés :

Les sommets :

Place un point P au milieu de [AB].

un

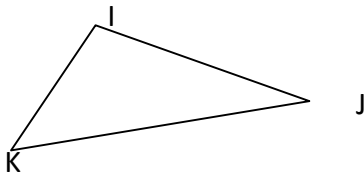


Les côtés :

Les sommets :

Place un point R au milieu de [EF].

un

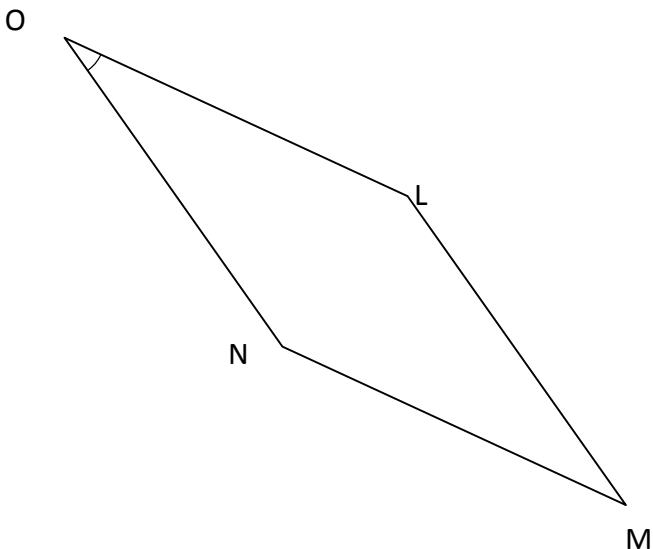


Les côtés :

Les sommets :

Place un point S au milieu de [IK].

un



Les côtés :

Les sommets :

Place un point T au milieu de [LM] et un point U au milieu de [ON].

Relie T et U.

Que peux-tu dire des segments [OL], [TU] et [NM] ?

.....