


Prénom :

Mesure les côtés de chaque polygone et écris les longueurs.

►►Ce polygone est un



AB =cm

BC =cm

CD =cm

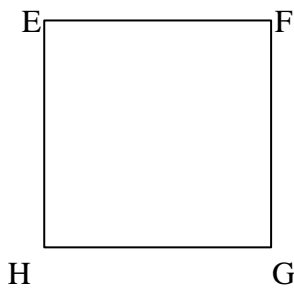
DA =cm

Coche les égalités justes.

AB = BC AB = CD

BC = CD BC = AD

►►Ce polygone est un



EF =

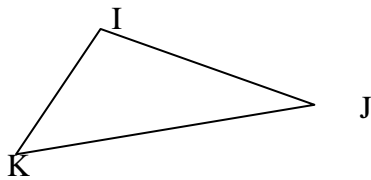
FG =

GH =

HE =

Vrai ou faux : EF = FG = GH = HE

►►Ce polygone est un



IJ =

JK =

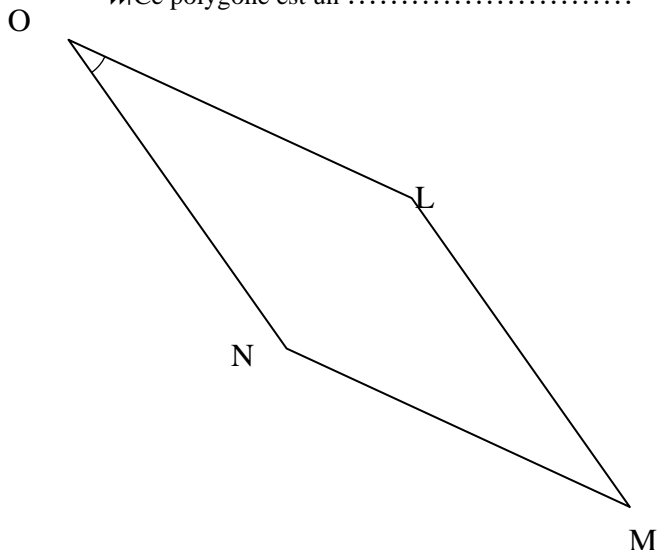
KI =

Coche le bon rangement.

IJ < JK < KI IK < IJ < JK

JK < IJ < IK

►►Ce polygone est un



LM =

MN =

NO =

OL =

Écris l'égalité :

...LM... = = =