

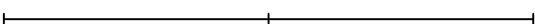
Calcul CM1

1. Avec ton voisin, vous allez imaginer que vous devez vous partager ces sommes d'argent. Il ne faut pas qu'il reste de centimes. Écrivez aussi la division qui correspond.


Ex : 50 € → 25 € chacun $50 \div 2 = 25$


- a. 10 € →
- b. 1 € → . . c ou . , . . €
- c. 3 € →
- d. 0,50 € →
- e. 6,40 € →
- f. 1,50 € →
- g. 11 € →
- h. 19 € →
- i. 20,10 € →
- j. 1,40 € →

2. Trouvez maintenant les moitiés de ces segments. Exprimez la réponse en cm. (aide de la règle)


Ex :  7 cm → 3,5 cm

k. 

l. 

m. 

n. 

o. 

Écrivez les cinq divisions qui correspondent au calcul des moitiés. Ex : $7 \div 2 = 3,5$

k..... l..... m.....
n..... o.....