

Prénom :

Calcul CM1

Pour ces problèmes, tu vas calculer le prix de 1 objet. Le résultat sera à virgule, car les prix sont souvent en euros et centimes. Aide-toi de l'exemple pour réussir.

1. On achète une série de 5 livres qui coûtent tous le même prix. En tout, on a dépensé 34 €. Trouve le prix d'un seul livre.

$$34 : 5 = 6,80$$

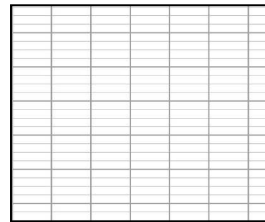
Un livre coute 6,80 €.

$$\begin{array}{r|l} 34,00 & 5 \\ 40 & 6,80 \\ 00 & \\ 0 & \end{array}$$

*2. On achète une série de 8 poupées identiques. En tout, on a dépensé 79,20 €. Trouve le prix d'une seule poupée.

.....

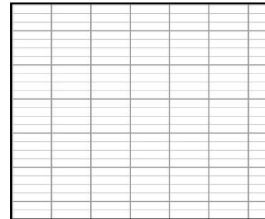
.....



**3. On achète 5 sucettes. En tout, on a dépensé 4 €. Trouve le prix d'une sucette.

.....

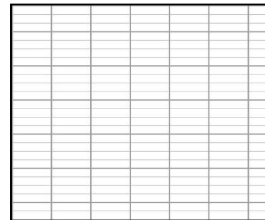
.....



**4. On dépense 170,91 € pour 9 DVD au même prix unitaire. Trouve le prix d'un DVD.

.....

.....



***5. On achète 6 pains au chocolat et une baguette 7 céréales à 1,10 €. En tout, cela coute 6,20 €. Trouve le prix d'un pain au chocolat.

.....

.....

.....

