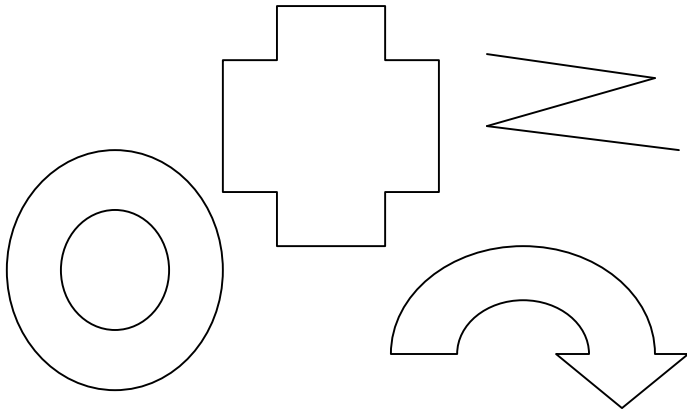



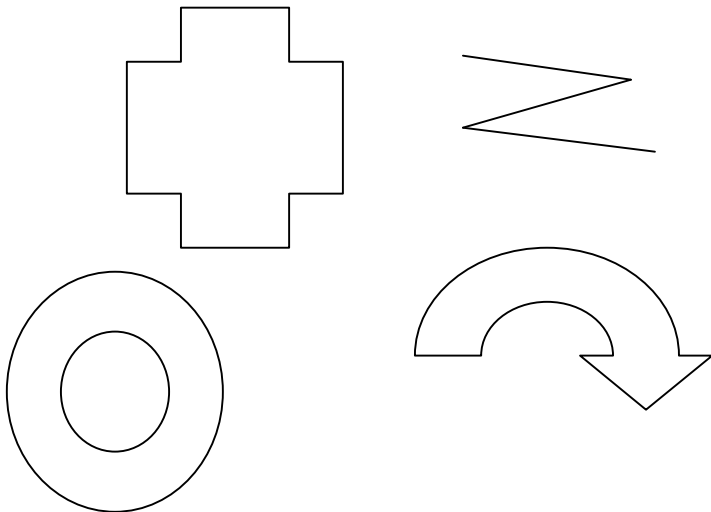
Parmi ces 4 figures, il n'y a qu'un seul polygone. Sur ce polygone, repasse un côté au crayon, et indique un sommet par une flèche.




Parmi ces 4 figures, il n'y a qu'un seul polygone. Sur ce polygone, repasse un côté au crayon, et indique un sommet par une flèche.




Parmi ces 4 figures, il n'y a qu'un seul polygone. Sur ce polygone, repasse un côté au crayon, et indique un sommet par une flèche.



Parmi ces 4 figures, il n'y a qu'un seul polygone. Sur ce polygone, repasse un côté au crayon, et indique un sommet par une flèche.



Parmi ces 4 figures, il n'y a qu'un seul polygone. Sur ce polygone, repasse un côté au crayon, et indique un sommet par une flèche.



Parmi ces 4 figures, il n'y a qu'un seul polygone. Sur ce polygone, repasse un côté au crayon, et indique un sommet par une flèche.

