

Prénom :

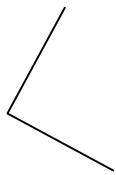
Mathématiques CE2 – Géométrie
Tracer des angles droits avec l'équerre

EXERCICES A FAIRE AU CRAYON DE PAPIER !


1. Trace un angle droit par rapport à cette droite (d).



2. Complète cette figure pour obtenir un carré.



3. Complète cette figure pour obtenir un rectangle.



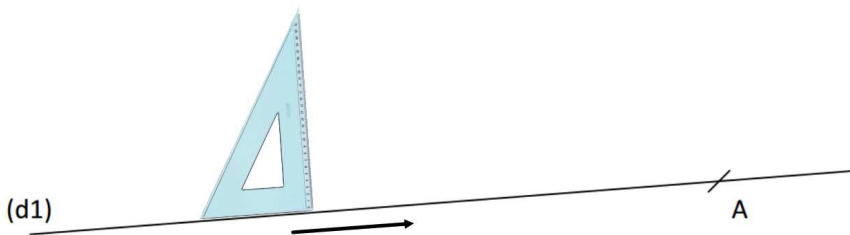
3. Complète ces figures pour obtenir :

a. un rectangle de 5 cm de longueur et 3 cm de largeur

b. un carré de 4 cm de côté



4. Place ton équerre le long de cette droite (d1), et fais-la coulisser jusqu'à ce que le côté sur lequel tu vas tracer passe exactement sur le point A. Puis trace l'angle droit.



5. Place ton équerre le long de cette droite (d2), et fais-la coulisser jusqu'à ce que le côté sur lequel tu vas tracer passe exactement sur le point B. Puis trace l'angle droit.

