

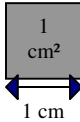

Prénom :

Mathématiques – MESURES CM1

1/Juste en observant ces rectangles, range-les selon leur aire, du plus petit au plus grand.
(du moins étendu au plus étendu)

.....


2/Mesure et indique l'aire précise de chaque rectangle en cm² après les avoir quadrillés.

1 cm² (on dit « centimètre carré ») c'est cette surface :  (ou équivalente )


A aire =cm²




B



C



D



E



F

3/Compare tes mesures avec ton rangement de l'exercice 1 et explique tes erreurs éventuelles.

.....

.....