

Prénom :

Mathématiques

Date :

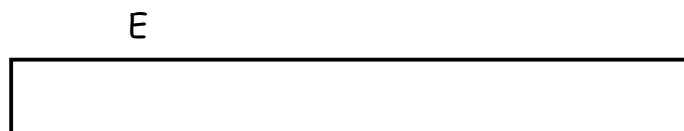
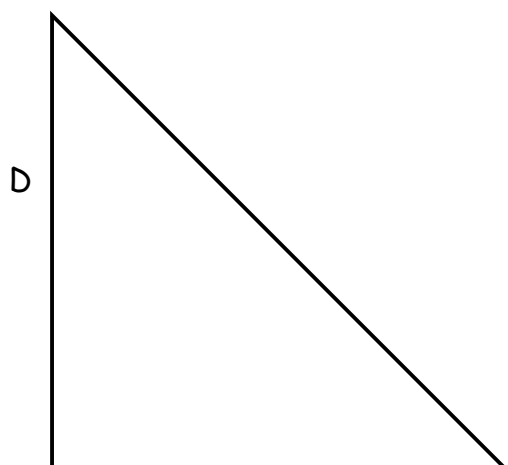


Tu dois calculer l'aire (la surface) de chaque figure.

Pour ce faire, tu disposes d'un quadrillage dont chaque carré mesure 1 cm².

1. Mesure les côtés de chaque figure.

2. Colorie sur le quadrillage le nombre de cm² dont tu auras besoin pour remplir chaque figure.

3. Découpe ce que tu as colorié et colle sur chaque figure.



4. Complète : aire de A :cm² (en rangées de cm²)

aire de B : (en rangées de cm²)

aire de C : (en rangées de cm²)

aire de D :

aire de E : (en rangée de cm²)