
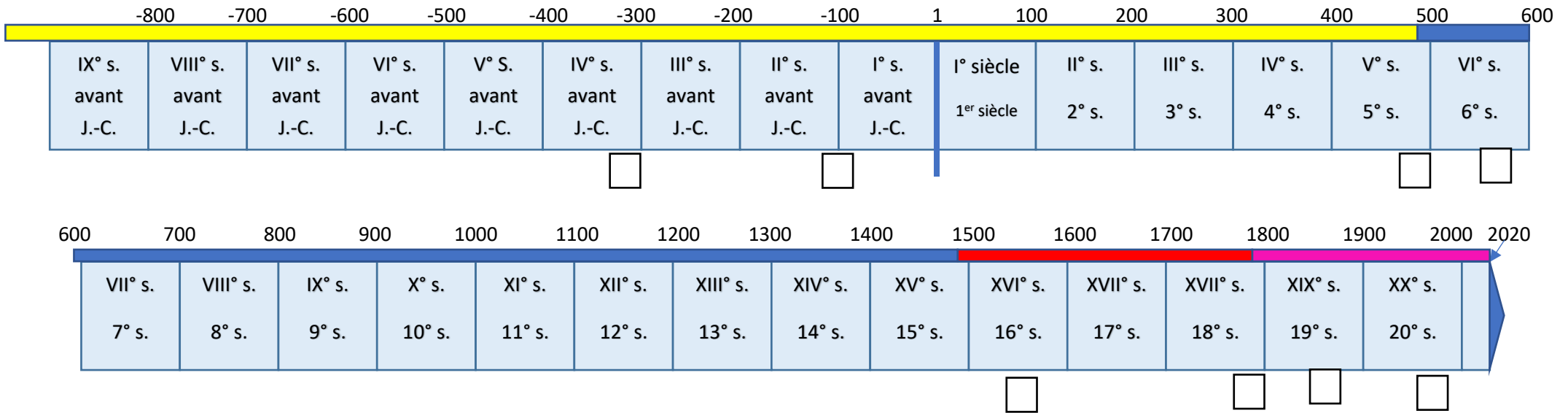



Histoire : les siècles

Place chaque lettre dans le bon cadre (sauf une lettre qu'on ne peut pas placer).

Année 1



A




B



C



D



E




F



G



H



I

À quel siècle a eu lieu l'invention des échecs ?

À quel siècle a été sculpté le colosse de Rhodes ?

Quel événement marque le début du Moyen-Âge ?

Quel événement marque la fin des Temps Modernes ?

Pourquoi n'as-tu pas pu placer la lettre D ?